
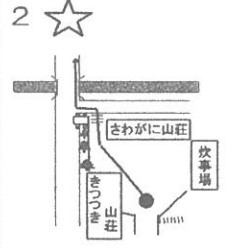
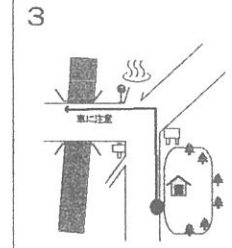
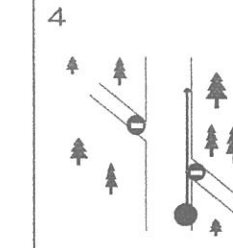
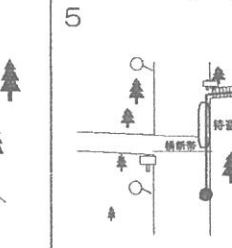
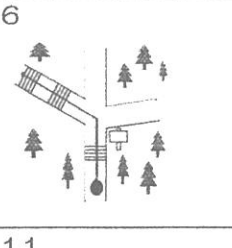
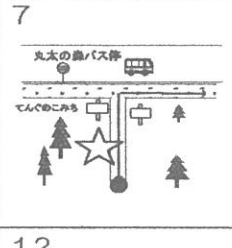
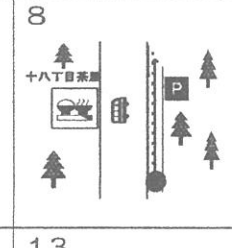
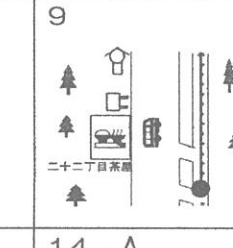
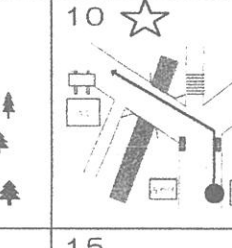
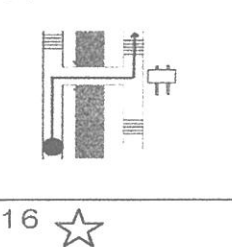
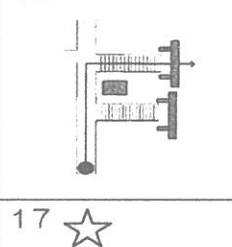
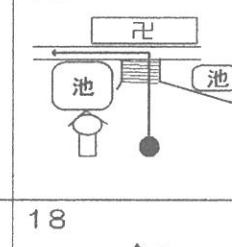
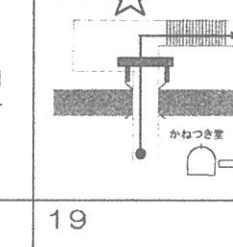
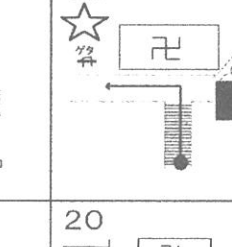
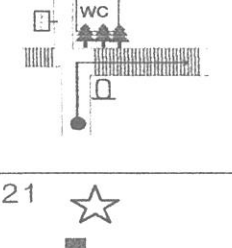
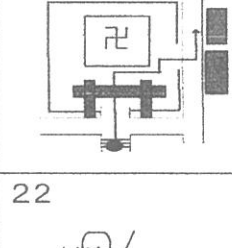
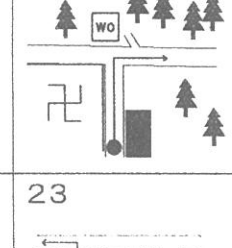

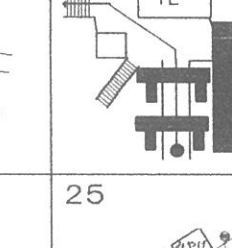
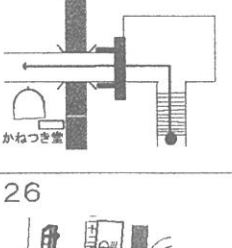
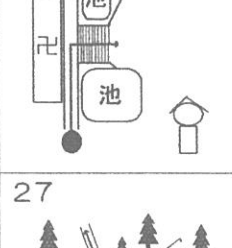
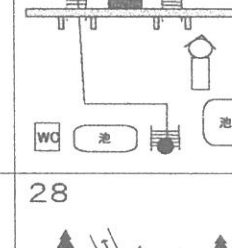
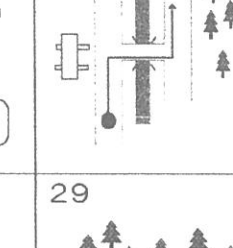
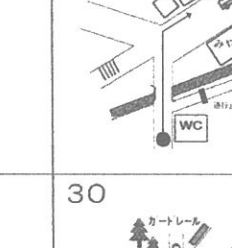
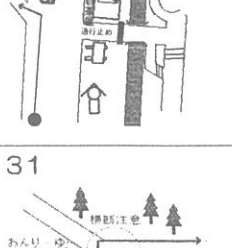
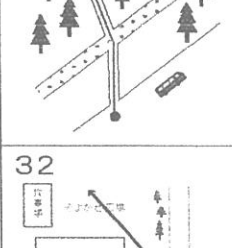
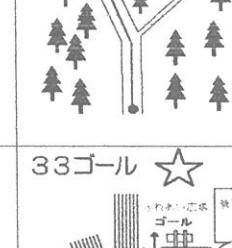
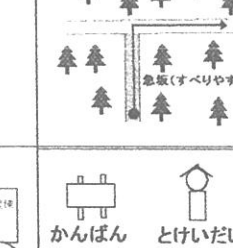
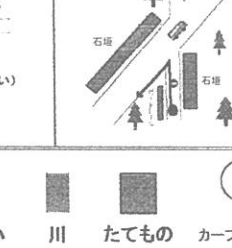






1 	2 	3 	4 	5 
6 	7 	8 	9 	10 
11 	12 	13 	14 	15 
16 	17 	18 	19 	20 
21 	22 	23 	24 	25 
26 	27 	28 	29 	30 
31 	32 	33 ゴール 	 <p> かんばん とけいだい 川 たてももの カープミラー お寺 橋 かいだん 門 設問 </p>	

☆コマ地図の見方

- ① 地図上の方位、距離はコマによって違います。
- ② 黒丸(●)が現在地、矢印(→)が進む方向です。
- ③ コマ地図には道の分岐点が表示してあります。
- ④ コマ地図に従い設問を解きながら進みます。
- ⑤ 次のコマ地図の場所まで10分以上かかることはありません。
- ⑥ 迷ったと思ったら分かるコマ地図の場所まで戻ります。
- ⑦ 車道を歩くこともありますので、交通ルールを守りましょう。

足柄ふれあいの村
南足柄市広町1507
TEL 0465-72-2010

グループ名 < >

◆ 出発時間 時 分 ◆ 到着時間 時 分 ◆ 所用時間 時間 分

コマ地図番号	問 題	回 答
スタート	次の15文字をならびかえると、一つの文になります。 ならびかえたらスタート! 「う・た・森・か・も・を・に・ら・の・さ・し・い・が・に・こ」	
No.2 ~31	(5月~10月) コマ地図2~31のコースの中で、見つけたものには○をつけましょう。 木の種類 ウラジロカシ シラカシ シロタモ アオキ スギ ヒノキ 草の種類 オオバノイノモトソウ ジャノヒゲ ヤブミョウガ (11月~4月) コースに落ちている葉っぱを3種類以上集めましょう。	
No.7	『てんぐのこみち』に出る手前の左側にある大きな木のまわりは何メートルでしょうか？(ヒント…両腕を広げた長さは、ほぼ身長に等しい)	
No.10	トイレの近くに、変わった杉の木があります。どんな形をしているか書いてください。	
No.14	通過するこの門の名前は？	
No.15	「和合下駄(わごうげた)」の重さは？(分からない場合はコマ地図23で確認)	
No.16	この先に天狗の像が両脇に立っており、奥の院へ続く長い階段があります。階段は何段ありますか？	
No.17	杉の大木を見ながら俳句を作ってみよう。	
No.21	鐘楼(かねつき堂)に彫られた動物を3種類書いてください。	
ゴール	このウォークラリーのコースで『たからもの』にしたいと思ったことやものは何ですか？	

※ご協力をお願いします~

ウォークラリーのコースに、空き缶やペットボトルが落ちていたら拾ってください。

(解答)

◆ 出発時間 時 分 ◆ 到着時間 時 分 ◆ 所用時間 時間 分

コマ地図番号	問 題	回 答
スタート	次の15文字をならびかえると、一つの文になります。 ならびかえられたらスタート! 「う・た・森・か・も・を・に・ら・の・さ・し・い・が・に・こ」	森・に・た・か・ら・も・の・を・さ・が・し・に・い・こ・う
No.2 ~ 31	(5月~10月) コマ地図2~31のコースの中で、見つけたものにはOをつけましょう! 木の種類 ウラジロカシ シラカシ シロダモ アオキ スギ ヒノキ 草の種類 オオバノイノモトソウ ジャノヒゲ ヤブミョウガ (11月~4月) コースに落ちている葉っぱを3種類以上集めましょう。	
No.7	『てんぐのこみち』に出る手前の左側にある大きな木のまわりは何メートルでしょうか?(ヒント…両腕を広げた長さは、ほぼ身長に等しい)	約4メートル
No.10	トイレの近くに、変わった杉の木があります。どんな形をしているか書いてください。	自由に書く
No.14	通過するこの門の名前は?	結界門
No.15	「和合下駄(わごうげた)」の重さは? (分からない場合はコマ地図23で確認)	千貫(約3,800kg)
No.16	この先に天狗の像が何脇に立っており、奥の院へ続く長い階段があります。階段は何段ありますか?	216段
No.17	杉の大木を見ながら俳句を作ってみよう。	正解はありません
No.21	鐘楼(かねつき堂)に彫られた動物を3種類書いてください。	龍・獅子・象
ゴール	このウォークラリーのコースで『たからもの』にしたいと思ったことやものは何ですか?	正解はありません

最乗寺ウォークラリーコース図

